





Datahantering


Frekwensietabel



Troeteldier	Telmerkies	Frekwensie
Honde	////	4
Katte	### //	7
Voëls	###	5

Piktogram

Maand	Telmerkies
Januarie	
Februarie	
Maart	
April	

 = 10 voëls

Stingel en Blaar diagram

Getal	Stingel	Blaar
15	1	5
7	0	7
46	4	6
80	8	0

Tiene = Stingels
Ene = Blaar

Modus = Meeste

Kleur kouse	Aantal
Groen	5
Blou	3
Geel	7
Swart	12
Wit	5
Oranje	7

Mediaan = Middel

Lys in orde van klein na groot

1 ; 1 ; 2 ; 5 ; 6 ; 8 ; 8 ; 9 ; 9

Gemiddeld

Tel alles bymekaar
Deel deur die aantal getalle

$$25 + 26 + 30 + 35 = 116$$

$$116 \div 4 = 29$$

